



CHEMISTRY

BOOKS - BHARATI BHAWAN

CHEMISTRY (HINDI)

बोध - संबद्ध प्रकार के प्रश्न

बहुविकल्पीय प्रश्न

1. सबल अम्ल और सबल भस्म के उदासीनीकरण की ऊष्मा होती हैं

A. 13.7 cal

B. 57.1kJ

C. $5.71 \times 10^4 J$

D. इनमें सभी

Answer: D



उत्तर देखें

2. 0.25 mol HCl को 0,25 molNaOH से अभिक्रिया कराने पर उत्सर्जित ऊर्जा होती है

A. 14.275kJ

B. $1.427 \times 10^{-3} kJ$

C. 57.1 kJ

D. 13.2 kJ

Answer: A



उत्तर देखें

3. सबल अम्ल और सबल भस्म की उदासीनीकरण ऊष्मा $-57.32 kJ mol^{-1}$ हैं और जल के गठन की ऊष्मा

$-285.84 \text{kJmol}^{-1}$ हैं। हाइड्रॉक्सील आयन के गठन की ऊष्मा होगी

A. $+228.52 \text{kJmol}^{-1}$

B. $-214.26 \text{kJmol}^{-1}$

C. $-228.52 \text{kJmol}^{-1}$

D. 220.84kJmol^{-1}

Answer: C



उत्तर देखें

4. 298 K ताप पर जल का pOH मान 7.0 है। यदि जल को 300 तक गर्म किया जाए, तो निम्नलिखित में कौन सही है ?

- A. pOH का मान घट जाएगा
- B. pOH का मान बढ़ेगा
- C. pOH का मान अपरिवर्तित रहेगा
- D. pH और pOH दोनों अपरिवर्तित रहेगा

Answer: B



उत्तर देखें

5. किसी विलयन का pH मान 6 हैं । इसमें अम्ल की पर्याप्त मात्रा डालकर pH मान 2 कर दिया जाता हैं , तो H^+ आयन के सांद्रण में वृद्धि क्या होगी ?

A. 3 गुना

B. 100 गुना

C. 1000 गुना

D. 10,000 गुना

Answer: D



उत्तर देखें

6. बोरिक अम्ल का pK_a 8.2 हैं । 0.02 M बोरिक अम्ल और 0.042 M सोडियम बोरेट से बने बफर विलयन का pH हैं

A. 8.52

B. 9.30

C. 10.50

D. 8.0

Answer: A



उत्तर देखें

7. सामान्य ताप व दाब पर 0.42 g नाइट्रोजन गैस एक छेद से होकर 100 सेकंड में विसरित होता है। समान ताप व दाब तथा उतने ही समय CO_2 का कितना आयतन विसरित होगा ?

A. 22.4 L

B. 11.2 L

C. 268.03 mL

D. 420 mL

Answer: C



उत्तर देखें

8. हाइड्रोजन और ऑक्सीजन गैस 1 : 16 के अनुपात में हैं ।

H_2 और O_2 के विसरण वेगो का अनुपात होगा ?

A. 4

B. $\frac{1}{4}$

C. 16

D. $\frac{1}{16}$

Answer: A



वीडियो उत्तर देखें

9. किसी गैस A (मोलर द्रव्यमान = 16) का विसरण - वेग एक दूसरे गैस B का दोगुना हैं । B का मोलर द्रव्यमान होगा

A. 32

B. 16

C. 64

D. 4

Answer: C



उत्तर देखें

10. अभिक्रिया $N_2 + 3H_2 \leftrightarrow C + D$ की साम्यावस्था

में बाहर से थोड़ी N_2 गैस मिला दी जाए तो

A. NH_3 का उत्पादन पहले से घट जाता है

B. NH_3 का उत्पादन पहले से बढ़ जाता है

C. अग्रिम अभिक्रिया के लिए अनुकूल होता है

D. साम्य मिश्रण में N_2 और H_2 के सांद्रण अपरिवर्तित

रह जाते हैं

Answer: C



उत्तर देखें

11. यदि प्रश्न 10 की अभिक्रिया के साम्य मिश्रण में एक अक्रिय गैस आर्गन बाहर से मिला दी जाए , तो

- A. उल्टी अभिक्रिया का वेग बढ़ जाता है
- B. अभिक्रिया की साम्यावस्था अप्रभावित रहती है
- C. अग्रिम और उल्टी दोनों अभिक्रियाओं के वेग बढ़ जाते हैं
- D. उपर्युक्त में कोई नहीं

Answer: B



उत्तर देखें

12. यदि अभिक्रिया $N_2O_4(g) \leftrightarrow 2NO_2(g)$ में दाब बढ़ा दिया जाए ,तो

A. NO_2 का उत्पादन बढ़ जाता है

B. NO_2 का N_2O_4 में परिवर्तन बढ़ जाता है

C. NO_2 का उत्पादन घट जाता है

D. अभिक्रिया की साम्यावस्था पर कोई प्रभाव नहीं पड़ता है

Answer: C



उत्तर देखें

13. सामान्य अवस्था (ground state) में हाइड्रोजन परमाणु की बोर त्रिज्या 0.524 है । तृतीय उत्तेजित अवस्था ($n = 3$) में बोर त्रिज्या का मान है

A. 4.76 Å

B. 3.12 Å

C. 1.25 Å

D. 5.26 Å

Answer: A



उत्तर देखें

14. $n = 5$ वाले इलेक्ट्रॉन का वेग $n = 2$ वाले इलेक्ट्रॉन के वेग से होगा

A. अधिक

B. कम

C. बराबर

D. इनमें कोई नहीं

Answer: B



उत्तर देखें

15. चौथी कक्षा में इलेक्ट्रॉन - तरंगों की संख्या होती है

A. 8

B. 4

C. 2

D. 16

Answer: B



वीडियो उत्तर देखें

16. लिथियम आयोडाइन की प्रकृति कैसी होगी ?

- A. कम आयनिक एवं कम सहसंयोजक
- B. कम आयनिक एवं अधिकतम सहसंयोजक
- C. अधिकतम आयनिक एवं कम सहसंयोजक
- D. इनमे कोई नहीं

Answer: B



वीडियो उत्तर देखें

17. लिथियम क्लोराइड ऐल्कोहॉल में होता है

A. विलय

B. अविलेय

C. बहुत कम विलेय

D. इनमें कोई नहीं

Answer: A



वीडियो उत्तर देखें

18. क्षार धातुओं (Na , K , Rb , Cs) के लवण ऐल्कोहॉल में होते है

A. अविलेय

B. विलेय

C. कम विलेय

D. इनमे कोई नहीं

Answer: A



उत्तर देखें

19. क्षारीय मृदा धातु होते हैं

A. प्रबल अवकारक

B. प्रबल ऑक्सीकारक

C. दुर्बल अवकारक

D. दुर्बल ऑक्सीकारक

Answer: A



वीडियो उत्तर देखें

20. परमाणु संख्या में वृद्धि के साथ क्षारीय मृदाधातु की अवकारक शक्ति

A. घटती है

B. बढ़ती है

C. एकसमान रहती है

D. इनमे कोई नहीं

Answer: B



उत्तर देखें

21. क्षारधातुओं की तुलना में क्षारीय मृदाधातुएँ होती हैं

- A. अधिक विद्युतधनात्मक
- B. अधिक विद्युतऋणात्मक
- C. कम विद्युतधनात्मक
- D. कम विद्युतऋणात्मक

Answer: C



वीडियो उत्तर देखें

22. आवर्त सारणी के वर्ग - 2 के तत्व वर्ग -1 के तत्वों के अपेक्षा होते हैं

A. कड़े

B. मुलायम

C. अधिक मुलायम

D. इनमे कोई नहीं

Answer: A



वीडियो उत्तर देखें

23. आवर्त सारणी के वर्ग -2 के तत्व वर्ग -1 के तत्वों की अपेक्षा होते हैं

- A. अधिक घनत्ववाले
- B. निम्न घनत्ववाले
- C. 'a' और 'b' दोनों
- D. इनमें कोई नहीं

Answer: A



उत्तर देखें

24. वर्ग - 2 के तत्व वर्ग -1 के तत्वों की अपेक्षा होते हैं

- A. निम्न द्रवणांकवाले
- B. उच्च द्रवणांकवाले
- C. निम्न क्वथनांकवाले
- D. इनमे कोई नहीं

Answer: B



वीडियो उत्तर देखें

25. कार्बन तथा सिलिकन है

A. धातु

B. अधातु

C. उपधातु

D. इनमे कोई नहीं

Answer: B



वीडियो उत्तर देखें

26. टीन तथा लेड है

A. उपधातु

B. धातु

C. अधातु

D. इनमे कोई नहीं

Answer: B



वीडियो उत्तर देखें

27. जर्मेनियम होता है

A. धातु

B. अधातु

C. उपधातु

D. इनमे कोई नहीं

Answer: C



वीडियो उत्तर देखें

28. Sn^{2+} के यौगिक होते है |

A. सहसंयोजक

B. आयनिक

C. उपसहसंयोजक

D. इनमे कोई नहीं

Answer: B



वीडियो उत्तर देखें

29. + 4 ऑक्सीकरण अवस्थावाले यौगिक होते है

A. उपसहसंयोजक

B. आयनिक

C. सहसंयोजक

D. इनमे कोई नहीं

Answer: C



वीडियो उत्तर देखें

30. Sn^{4+} के यौगिक होते हैं

A. सहसंयोजक

B. उपसहसंयोजक

C. आयनिक

D. इनमें कोई नहीं

Answer: A



वीडियो उत्तर देखें

31. इस अभिक्रिया में सांद्र H_2SO_4 का व्यवहार किया जाता है

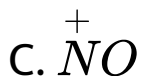
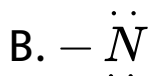
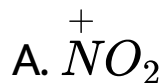
- A. उत्प्रेरक के रूप में
- B. जलशोषक के रूप में
- C. नाइट्रोनियम आयन की उत्पत्ति में
- D. इनमें कोई नहीं

Answer: C



वीडियो उत्तर देखें

32. इस अभिक्रिया में कौन - सा क्रियाशील मध्यवर्ती बनता है ?



Answer: A



उत्तर देखें

33. H_2SO_4 की उपस्थिति में HNO_3 का अभिलक्षण कैसा होगा ?

A. अम्ल - जैसा

B. भस्म - जैसा

C. उभयधर्मी

D. इनमे कोई नहीं

Answer: B



उत्तर देखें

34. इलेक्ट्रॉनग्राही समूह बेंजीन वलय के इलेक्ट्रॉन को किस स्थान से खींचते है ?

A. ऑर्थो से

B. मेटा से

C. 'a' एवं 'b' दोनों से

D. इनमे सभी स्थानों से

Answer: C



उत्तर देखें

35. निम्नलिखित में कौन इलेक्ट्रॉनग्राही समूह बेंजीन के ऑर्थो

एवं पैरा स्थान पर इलेक्ट्रॉन घनत्व बढ़ा देते हैं ?

A. $-CI$

B. $-NO_2$

C. $-C \equiv N$

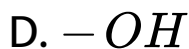
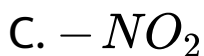
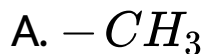
D. $-CHO$

Answer: A



उत्तर देखें

36. निम्नलिखित में कौन समूह बेंजीन के ऑर्थो एवं पैरा स्थान पर इलेक्ट्रॉन घनत्व घटा देते हैं ?



Answer: C



उत्तर देखें

37. निम्नलिखित में सही कथनो को चुने ।

- A. बेंजीन का सूत्र अति असंतृप्त है , अतः बेंजीन एक अस्थाई यौगिक है ।
- B. यह योगशील अभिक्रिया में आसानी से भाग लेता है
- C. यह प्रतिस्थापन अभिक्रिया में आसानी से भाग लेता है
- D. बेंजीन तथा गंधक के बिच अभिक्रिया होती है ।

Answer: C



उत्तर देखें

38. एकलप्रतिस्थापित बेंजीन के कितने समावयवी होंगे ?

A. 4

B. 3

C. 2

D. 1

Answer: D



उत्तर देखें

39. द्विप्रतिस्थापित बेंजीन के कितने समावयवी होंगे ?

A. 4

B. 3

C. 2

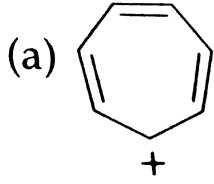
D. 1

Answer: B

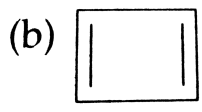


वीडियो उत्तर देखें

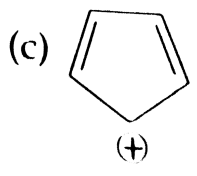
40. निम्नलिखित में कौन ऐरोमैटिक है ?



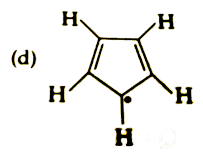
A.



B.



C.



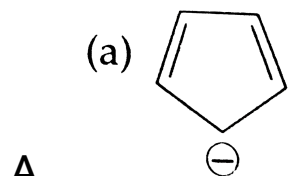
D.

Answer: A



वीडियो उत्तर देखें

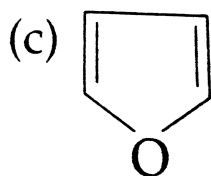
41. निम्नलिखित में कौन ऐंटीरोमेटिक है ?



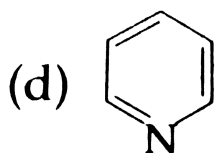
A.



B.



C.



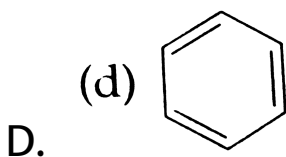
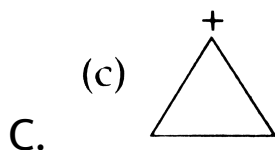
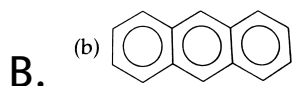
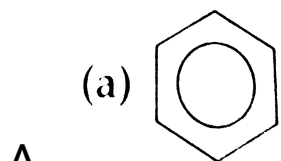
D.

Answer: B



वीडियो उत्तर देखें

42. निम्नलिखित रासायनिक तंत्रों में कौन ऐरोमेटिक नहीं है ?



Answer: C



43. निम्नलिखित में कौन एल्केन प्रकाशित समावयवता दर्शाता है ?

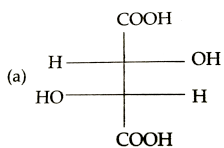
- A. 2 -मेथिलपेंटेन
- B. 3- मेथिलपेंटेन
- C. 2, 3 - डाइमेथिलपेंटेन
- D. दोनों 'b' एवं 'c'

Answer: C

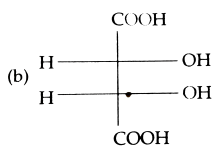


उत्तर देखें

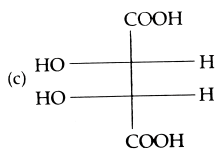
44. निम्नलिखित में कौन मेसो यौगिक है ?



A.



B.



C.

D. इनमें कोई नहीं

Answer: B



उत्तर देखें

45. निम्नलिखित में उपर्युक्त अभिक्रिया की दर किसके सांद्रण पर निर्भर करेगा ?

- A. सिर्फ (I) के सांद्रण पर
- B. सिर्फ (II) के सांद्रण पर
- C. (I) तथा (II) के सांद्रण पर
- D. किसी के सांद्रण पर नहीं

Answer: C



उत्तर देखें

46. निम्नलिखित में उपर्युक्त अभिक्रिया किस प्रकार की है ?

A. S_N1

B. S_N2

C. E_1

D. E_2

Answer: B



उत्तर देखें

47. निम्नलिखित में उपर्युक्त अभिक्रिया का सही प्रतिफल कैसा बनेगा ?

A. लीवो

B. डेक्ट्रो

C. रेसिमिक

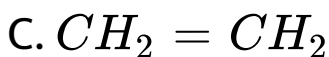
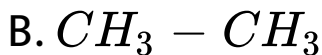
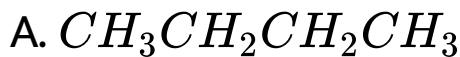
D. इनमे कोई नहीं

Answer: A



उत्तर देखें

48. यदि एथिल क्लोराइड की अभिक्रिया सोडियम की अभिक्रिया सोडियम के साथ ईथर की उपस्थिति में कराई जाए तो निम्नलिखित में क्या बनेगा ?



Answer: D



उत्तर देखें

49. यदि मेथिल क्लोराइड तथा एथिल क्लोराइड की अभिक्रिया सोडियम के साथ ईथर की उपस्थिति में कराई जाए तो निम्नलिखित में क्या बनेगा ?

A. शुद्ध प्रोपेन

B. शुद्ध ब्यूटेन

C. शुद्ध एथेन

D. एथेन, प्रोपेन तथा ब्यूटेन का मिश्रण

Answer: D



उत्तर देखें

50. निम्नलिखित में किस विधि में प्रोपेन बनाया जा सकता है ?

A. फ्रैंकलैंड

B. एथिल आयोडाइड के अवकरण से

C. कोरे - हाउस अभिक्रिया से

D. ऐसीटैल्डिहाइड के क्लेमेन्सेन अवकरण द्वारा

Answer: C



उत्तर देखें

51. 'चिपको आंदोलन' का मुख्य उद्देश्य निम्नलिखित में क्या था ?

- A. मिट्टी के अपरदान को रोकना
- B. वन कटाई को रोकना
- C. जल प्रदूषण को रोकना
- D. बिजली उत्पादन

Answer: B



वीडियो उत्तर देखें

52. यूरो - II का संबंध निम्नलिखित में किससे है ?

- A. मृदा प्रदूषण से
- B. वायु प्रदूषण से
- C. जल प्रदूषण से
- D. इनमे किसी से नहीं

Answer: B



उत्तर देखें

53. निम्नलिखित में क्योटो प्रोटोकॉल किस गैस के उत्सर्जन के स्तर में कमी लाने के लक्ष्य से बनाया गया था ?

 उत्तर देखें

54. सोडियम निष्कर्ष (extract) में सोडियम नाट्रोप्रूसाइड का विलयन डालकर गंधक की परीक्षा करने में किस यौगिक के बनने के कारण बैंगनी रंग प्राप्त होता है ?

 उत्तर देखें

55. कार्बनिक यौगिक में नाइट्रोजन उपस्थित रहने पर सोडियम निष्कर्ष से हैलोजन की परीक्षा करने में किस यौगिक की उपस्थिति के कारण कठिनाई उत्पन्न होती है ?



उत्तर देखें

56. सोडियम निष्कर्ष (extract) द्वारा कार्बनिक यौगिक में नाइट्रोजन की परीक्षा करने में किस यौगिक के बनने के कारण प्रुसियन ब्लू रंग प्राप्त होता है ?



उत्तर देखें