



MATHS

BOOKS - CHHAYA MATHS (BENGALI)

লেখচিত্র

Example

1. ছক কাগজে $A(4,0)$, $B(0,6)$, $C(2,5)$, $D(7,1)$ বিন্দুগুলি
বসাও |



Watch Video Solution

2. $(1,1)$, $(3,7)$, $(9,1)$ ও $(12,1)$ বিন্দুগুলি ছক কাগজে বসাও ও পেন্সিল দিয়ে যোগ করে দেখো সমরেখ কিনা।



Watch Video Solution

3. ছক কাগজে 4 টি সমরেখ বিন্দু লেখো ও বিন্দুগুলির স্থানাঙ্ক লেখো।



Watch Video Solution

4. A(2,0), B(6,0) ও C(4,3) বিন্দুগুলি ছক কাগজে বসাও
ও A,B,B,C ও C,A যোগ করে দেখো কী পাও | বিন্দুগুলি
যোগ করে একটি _____ পাবে ? [ত্রিভুজ/চতুর্ভুজ]



Watch Video Solution

5. P(2,2), Q(4,4), R(6,6) বিন্দুগুলি যোগ করে একটি
_____ (রৈখিক/রৈখিক নয়) লেখচিত্র পাও |



Watch Video Solution

6. P(1,2), A(2,3), T(3,4), H(4,5) বিন্দুগুলি ছক কাগজে বসাও ও যোগ করে দেখো রৈখিক লেখচিত্র পেলাম কিনা ?



Watch Video Solution

7. পেনের সংখ্যা ও দামের একটি ছক তৈরি করা হয়েছে ।
ছক কাগজে উপরের তথ্যের একটি লেখচিত্র আঁকার
চেষ্টা করো ।

পেনের সংখ্যা (টি)	6	10	24
পেনের দাম (টাকা)	12	20	48



8. আজ আমরা ট্যাক্সি ভাড়া করে শালবনীতে যাচ্ছি ।
সেখানে আমার মামার বাড়ি । সকাল 7 টায় রওনা দিয়েছি
। প্রতি ঘন্টায় আমাদের গাড়ি কতটা পথ অতিক্রম করল
তার তথ্য আমি নিচের ছকে লিখেছি । ছক কাগজে এই
তথ্যগুলির লেখচিত্র অঙ্কন করো । লেখচিত্র থেকে
সকাল 10 টা 30 মিনিট পর্যন্ত গাড়িটি কতপথ অতিক্রম
করেছিল দেখো এবং 125 কিমি দূরত্ব কখন অতিক্রম
করেছিল দেখো ।

সময় (ঘণ্টা)	1	2	3	4
অতিক্রান্ত দূরত্ব (কিমি.)	50	100	150	200



Watch Video Solution

9. ছক কাগজে নীচের তথ্যগুলির সময় দূরত্বের লেখচিত্র তৈরি করো ও সেখান থেকে 4 ঘন্টায় অতিক্রান্ত দূরত্ব দেখো ও 150 কিমি দূরত্ব কত সময়ে যাবে লেখচিত্র থেকে

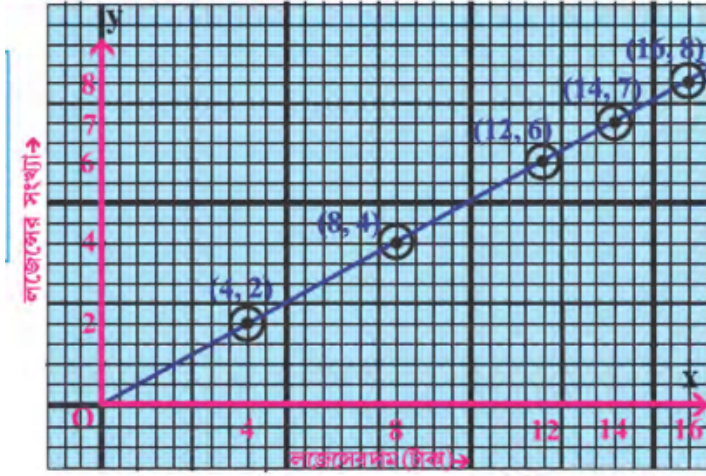
সময় (ঘন্টা)	2	3	5
দূরত্ব (কিমি.)	50	75	125

বলো।



Watch Video Solution

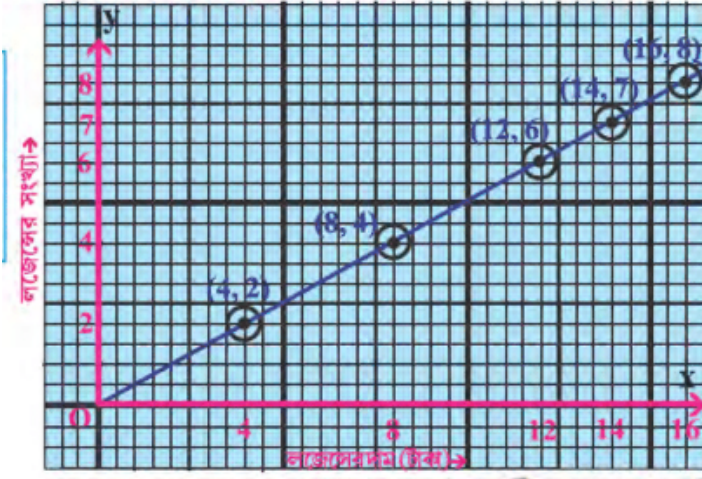
10. ছক কাগজের লেখচিত্রটি দেখে নীচের প্রশ্নটির উত্তর দাও। ছক কাগজের লেখচিত্রটি কোন বিষয়ের লেখো।



Watch Video Solution

11. ছক কাগজের লেখচিত্রটি দেখে নীচের প্রশ্নটির উত্তর
দাও | লজেন্সের সংখ্যা ও দাম কী সম্পর্কে আছে তা

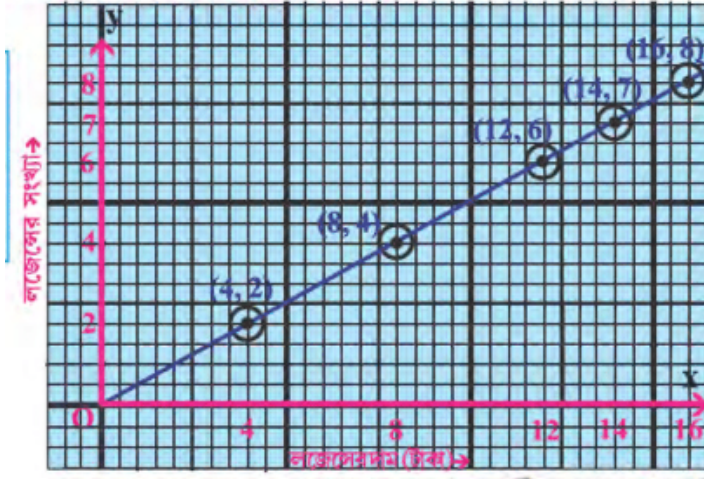
লেখো |



Watch Video Solution

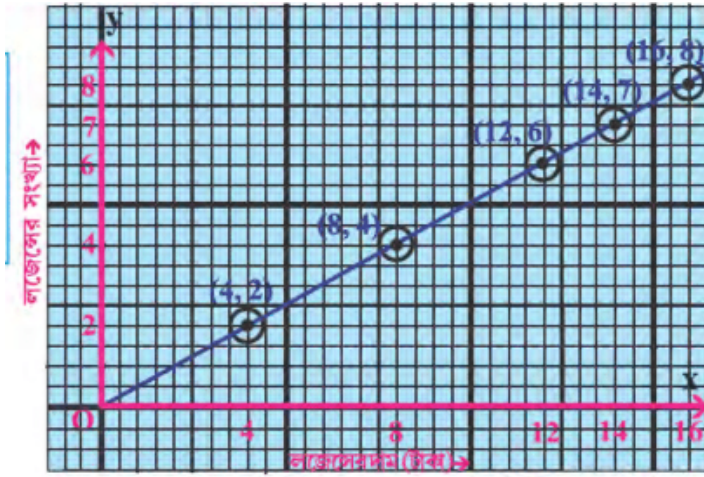
12. ছক কাগজের লেখচিত্রটি দেখে নীচের প্রশ্নটির উত্তর

দাও | 8 টি লজের দাম কত টাকা লেখো |

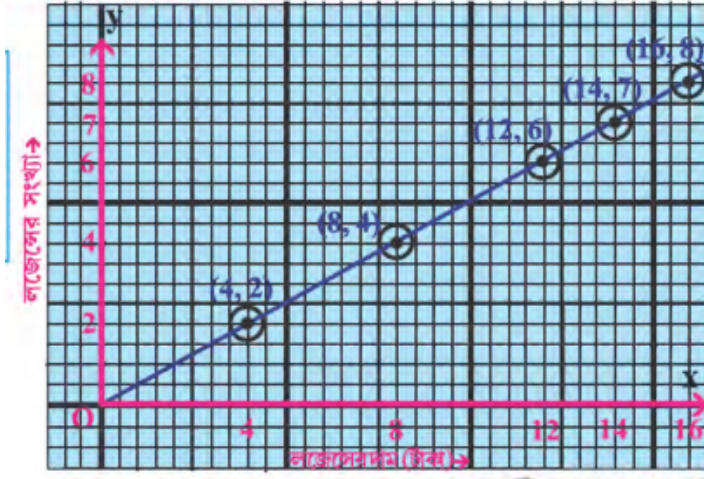


Watch Video Solution

13. ছক কাগজের লেখচিত্রটি দেখে নীচের প্রশ্নটির উত্তর
দাও | 12 টাকায় কতগুলি লজের পাওয়া যায় ছক

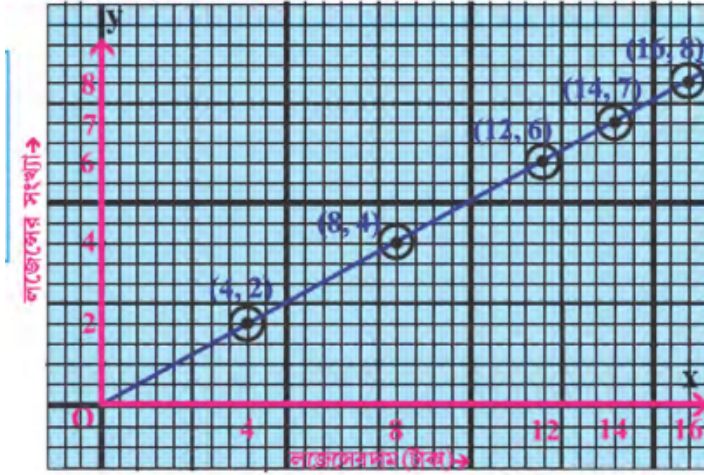
[Watch Video Solution](#)

14. ছক কাগজের লেখচিত্রটি দেখে নীচের প্রশ্নটির উত্তর
দাও | 1 টি লজেন্সের দাম কত টাকা লেখো |



Watch Video Solution

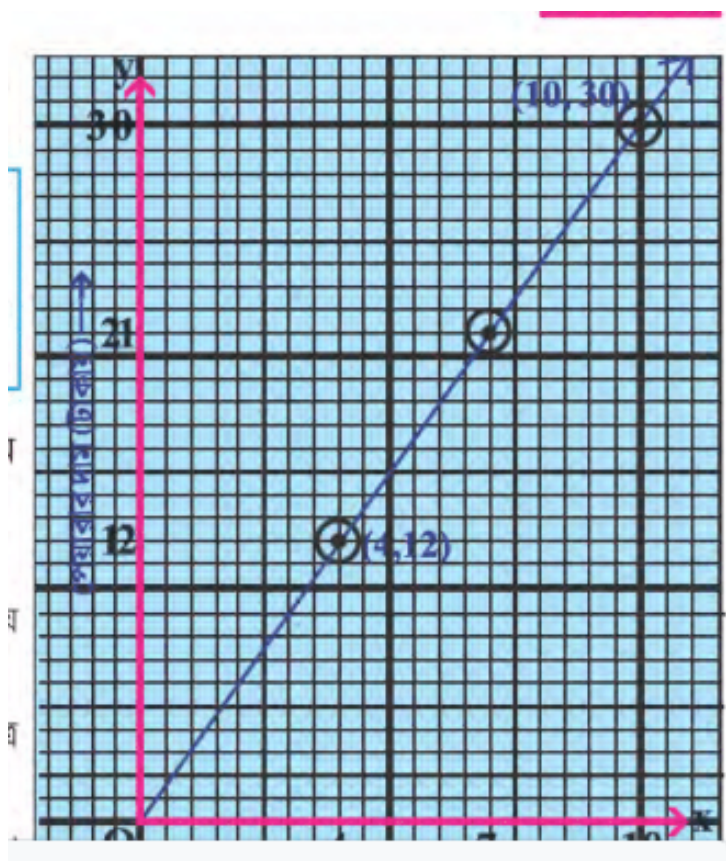
15. ছক কাগজের লেখচিত্রটি দেখে নীচের প্রশ্নটির উত্তর
দাও | 14 টাকায় কতগুলি লজের পাওয়া যায় ছক

[Watch Video Solution](#)

16. ছক কাগজে $(1,0)$, $(0,5)$, $(2,1)$, $(3,3)$, $(1,3)$, $(2,5)$ ও $(0,0)$ বিন্দু দেখাও |

[Watch Video Solution](#)

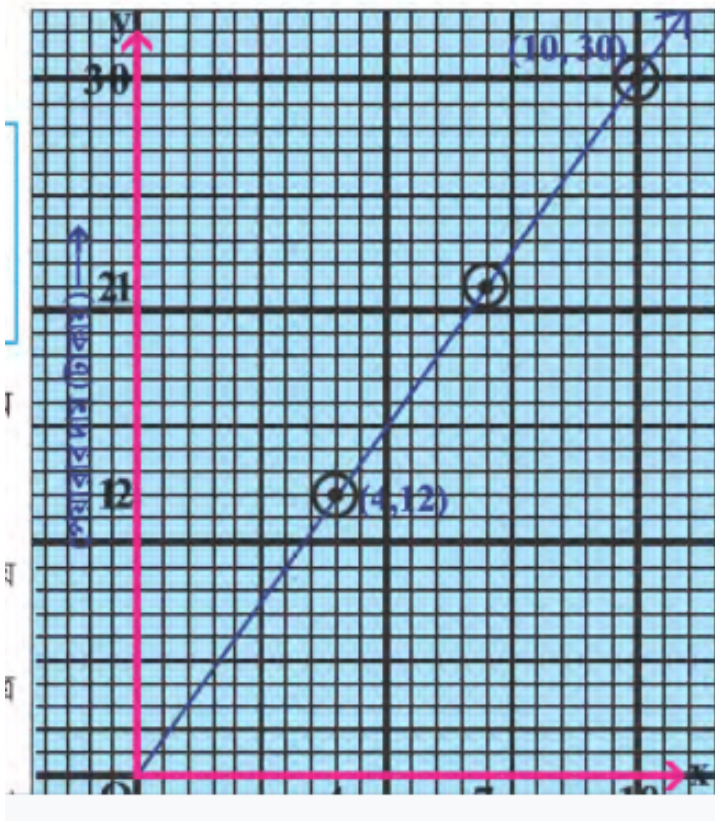
17. পাশের ছকের লেখচিত্র দেখো ও নীচের প্রশ্নটির উত্তর
খোঁজো | লেখচিত্র থেকে পেয়ারার সংখ্যা ও দাম কী
সম্পর্কে আছে লেখো |



Watch Video Solution

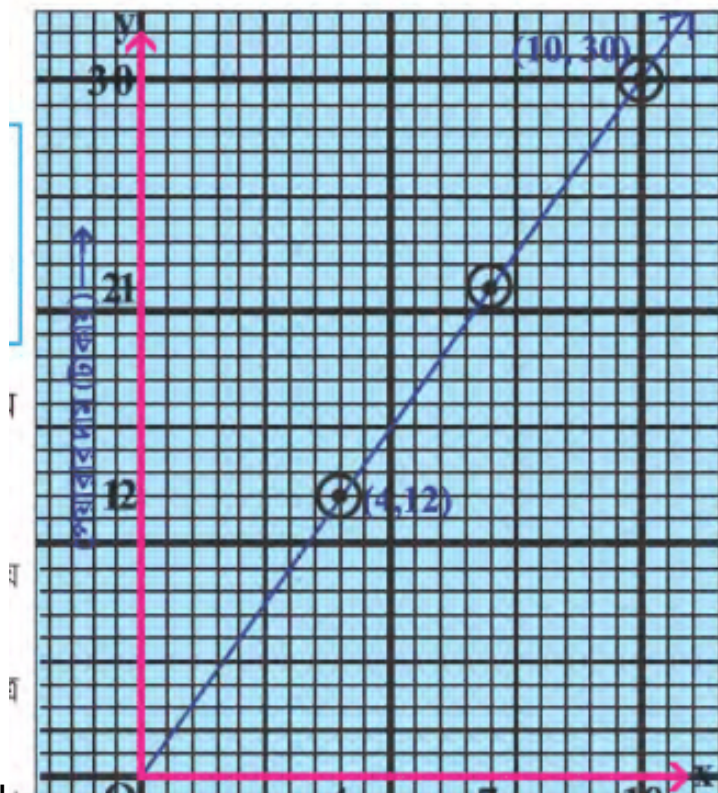
Exercise

1. পাশের ছকের লেখচিত্র দেখো ও নীচের প্রশ্নটির উত্তর
খোঁজো | 4 টি পেয়ারার দাম কত লেখো |



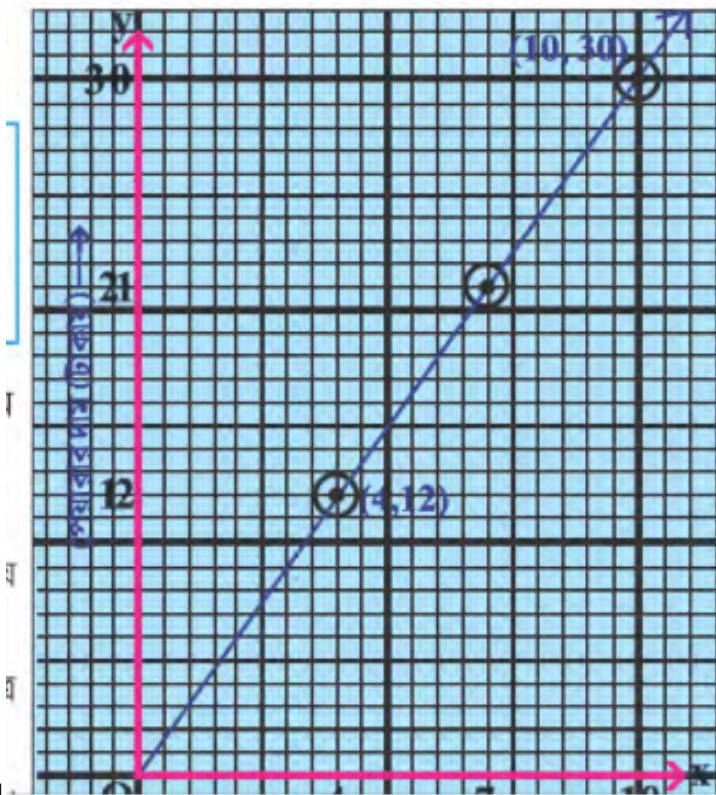
Watch Video Solution

2. পাশের ছকের লেখচিত্র দেখো ও নীচের প্রশ্নটির উত্তর
খোঁজো। 30 টাকায় কতগুলি পেয়ারা পাওয়া যায় লেখো



Watch Video Solution

3. পাশের ছকের লেখচিত্র দেখো ও নীচের প্রশ্নটির উত্তর
খোঁজো। 9 টাকায় কতগুলি পেয়ারা পাব লেখচিত্র থেকে

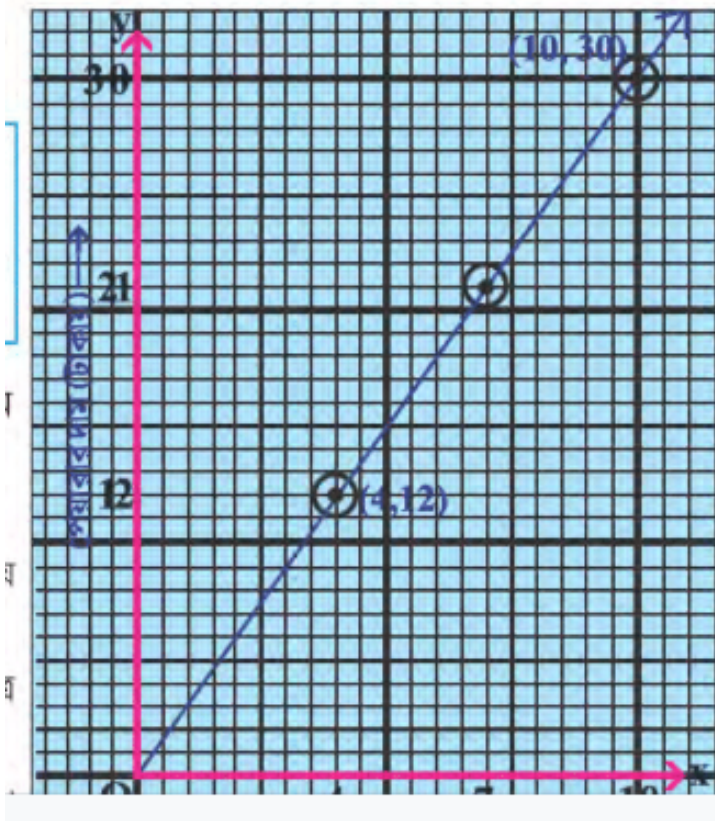


লেখো |



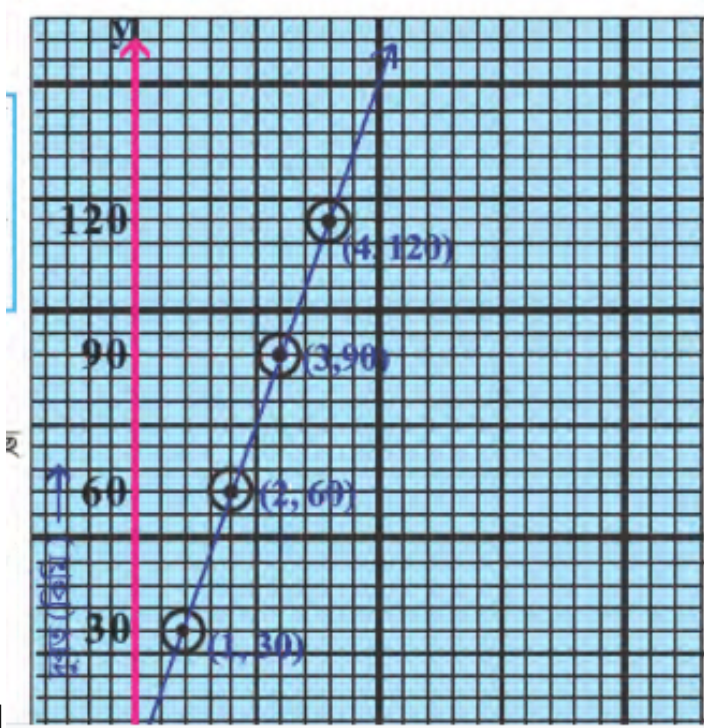
Watch Video Solution

4. পাশের ছকের লেখচিত্র দেখো ও নীচের প্রশ্নটির উত্তর
খোঁজো | 9 টি পেয়ারার দাম লেখচিত্র থেকে লেখো |



Watch Video Solution

5. পাশের দূরত্ব ও সময় লেখচিত্র দেখো ও নীচের প্রশ্নটির উত্তর খোঁজো | সময়ের সাথে দূরত্ব কী সম্পর্কে আছে

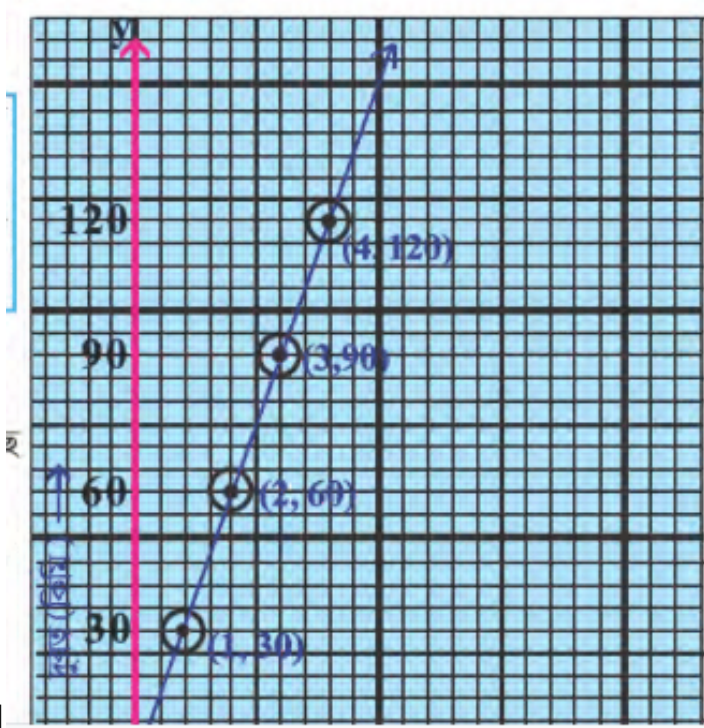


লেখো |



Watch Video Solution

6. পাশের দূরত্ব ও সময় লেখচিত্র দেখো ও নীচের প্রশ্নটির উত্তর খোঁজো | লেখচিত্র থেকে 3 ঘন্টায় কত দূরত্ব গেছে

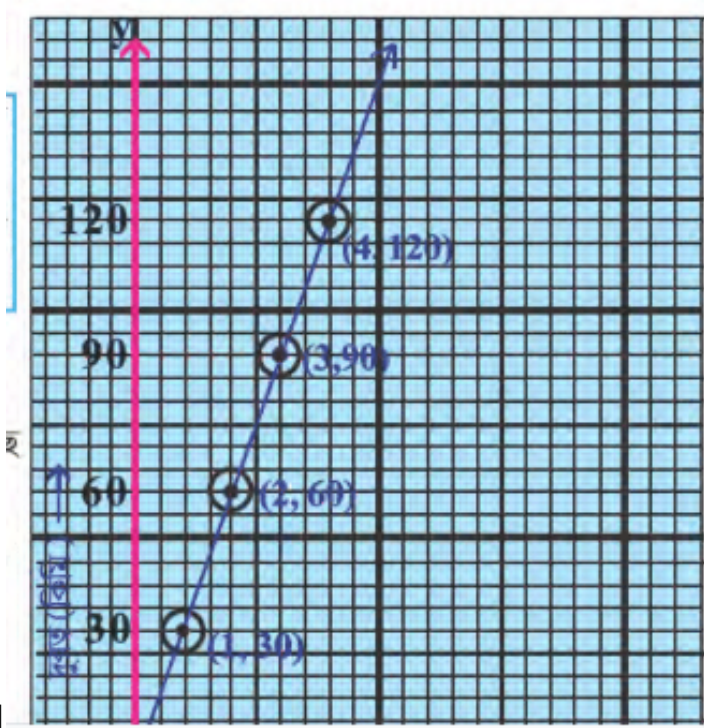


লেখো |



Watch Video Solution

7. পাশের দূরত্ব ও সময় লেখচিত্র দেখো ও নীচের প্রশ্নটির উত্তর খোঁজো | 120 কিমি পথ যেতে কত ঘণ্টা সময় লাগে

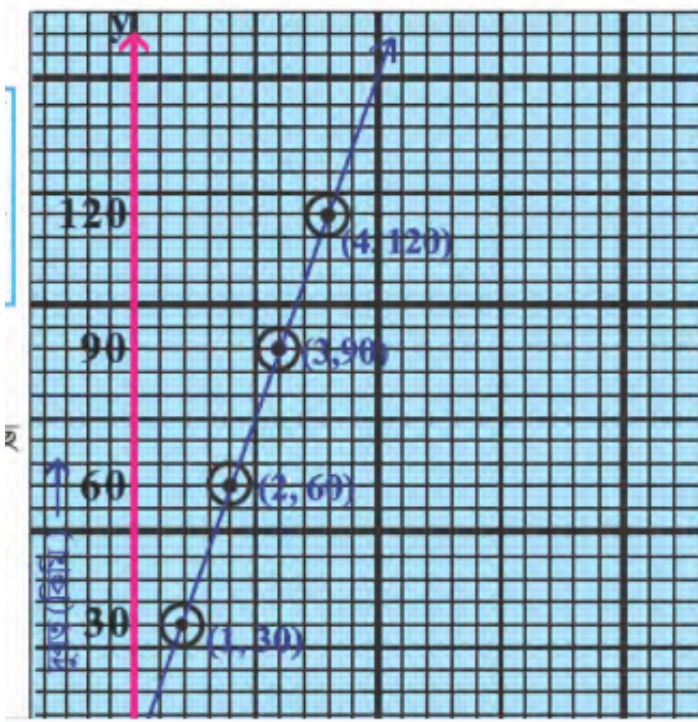


লেখো |



Watch Video Solution

8. পাশের দূরত্ব ও সময় লেখচিত্র দেখো ও নীচের প্রশ্নটির উত্তর খাঁজো | গতিবেগ ঘন্টায় কত কিমি দেখো |



Watch Video Solution

9. পাশের দূরত্ব ও সময় লেখচিত্র দেখো ও নীচের প্রশ্নটির উত্তর খোঁজো | 2 ঘন্টা 30 মিনিটে কত দূরত্ব অতিক্রম

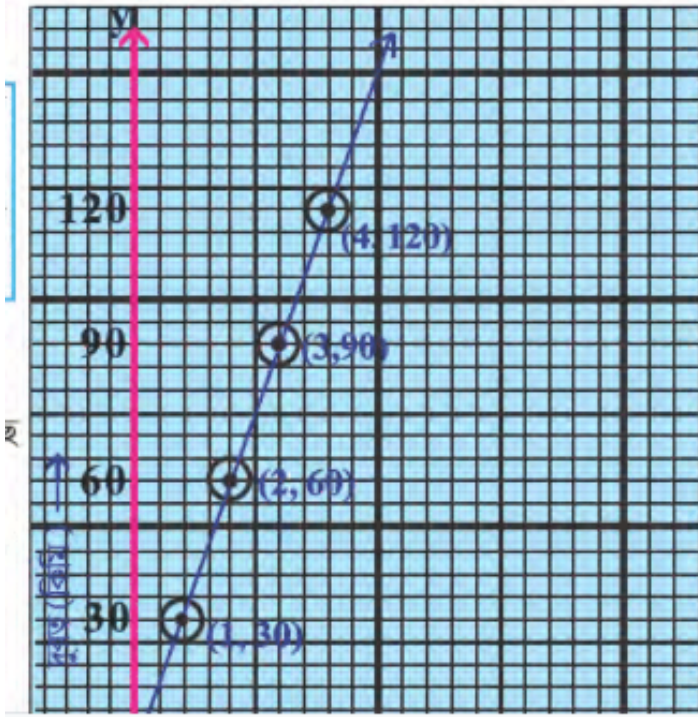
করবে

লেখচিত্র

থেকে

লেখো

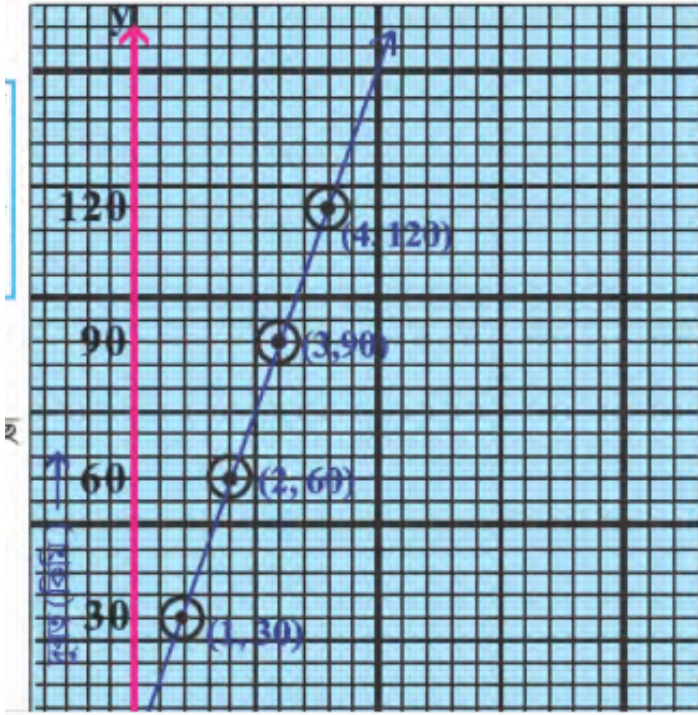
|



Watch Video Solution

10. পাশের দূরত্ব ও সময় লেখচিত্র দেখো ও নীচের প্রশ্নটির উত্তর খোঁজো | 45 কিমি দূরত্ব অতিক্রম করতে

কত সময় লাগবে হিসাব করো |



Watch Video Solution

11. নীচের ছকের তথ্যগুলির লেখচিত্র ছক কাগজে তৈরি করো ও লেখচিত্র রৈখিক কিনা দেখো |

পেনসিলের সংখ্যা	3	5	7	8
পেনসিলের দাম (টাকায়)	6	10	14	16



Watch Video Solution

12. নীচের ছকের তথ্যগুলির লেখচিত্র ছক কাগজে তৈরি
করো ও লেখচিত্র রৈখিক কিনা দেখো ।

সময় (ঘণ্টা)	2	4	6	8
দূরত্ব (কিমি.)	40	80	120	160



Watch Video Solution

13. নীচের ছকের তথ্যগুলির লেখচিত্র ছক কাগজে তৈরি
করো ও লেখচিত্র রৈখিক কিনা দেখো ।

ব্যাগের সংখ্যা	1	2	3	4
ব্যাগের দাম (টাকায়)	50	100	150	200



Watch Video Solution

14. নীচের ছকের তথ্যগুলির লেখচিত্র ছক কাগজে তৈরি
করো ও লেখচিত্র রৈখিক কিনা দেখো ।

বইয়ের সংখ্যা	2	3	5	8
বইয়ের দাম (টাকায়)	50	75	125	200



15. নীচের ছকের তথ্যগুলির লেখচিত্র ছক কাগজে তৈরি
করো ও লেখচিত্র রৈখিক কিনা দেখো ।

ওভার	1	3	5	7
ওভারের শেষে রান সংখ্যা	4	12	20	24

[Watch Video Solution](#)