




MATHS

BOOKS - NAVBODH

क्षेत्रमिति I - क्षेत्रफल

प्रश्नावली 16

1. निम्नलिखित में से बंद आकृतियों को पहचानिए।




वीडियो उत्तर देखें

2. निम्नलिखित में से बंद आकृतियों को पहचानिए।



वीडियो उत्तर देखें

3. निम्नलिखित में से बंद आकृतियों को पहचानिए।




वीडियो उत्तर देखें

4. निम्नलिखित में से बंद आकृतियों को पहचानिए।



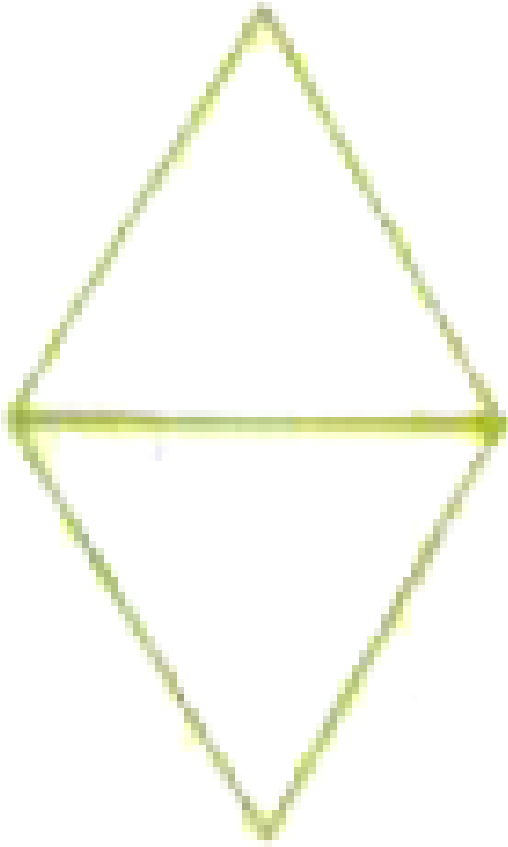
वीडियो उत्तर देखें

5. निम्नलिखित में से बंद आकृतियों को पहचानिए।



वीडियो उत्तर देखें

6. निम्नलिखित में से बंद आकृतियों को पहचानिए।



वीडियो उत्तर देखें

7. प्रत्येक आयत का क्षेत्रफल ज्ञात कीजिए। लम्बाई व चौड़ाई
निम्नानुसार है

लम्बाई = 6 सेमी. , चौड़ाई = 2 सेमी.।



वीडियो उत्तर देखें

8. प्रत्येक आयत का क्षेत्रफल ज्ञात कीजिए। लम्बाई व चौड़ाई
निम्नानुसार है

लम्बाई = 10 सेमी. , चौड़ाई = 1 सेमी.।



वीडियो उत्तर देखें

9. प्रत्येक आयत का क्षेत्रफल ज्ञात कीजिए। लम्बाई व चौड़ाई
निम्नानुसार है

लम्बाई = 12 सेमी. , चौड़ाई = 6 सेमी.।



वीडियो उत्तर देखें

10. प्रत्येक आयत का क्षेत्रफल ज्ञात कीजिए। लम्बाई व
चौड़ाई निम्नानुसार है

लम्बाई = 13.5 सेमी. , चौड़ाई = 10 सेमी.।



वीडियो उत्तर देखें

11. निम्नलिखित वर्गों जिनकी भुजाएँ निम्न अनुसार हैं का क्षेत्रफल ज्ञात कीजिए

6 सेमी.



वीडियो उत्तर देखें

12. निम्नलिखित वर्गों जिनकी भुजाएँ निम्न अनुसार हैं का क्षेत्रफल ज्ञात कीजिए

12 सेमी.



वीडियो उत्तर देखें

13. निम्नलिखित वर्गों जिनकी भुजाएँ निम्न अनुसार हैं का क्षेत्रफल ज्ञात कीजिए

13 सेमी.



वीडियो उत्तर देखें

14. निम्नलिखित वर्गों जिनकी भुजाएँ निम्न अनुसार हैं का क्षेत्रफल ज्ञात कीजिए

3.5 सेमी.



वीडियो उत्तर देखें

15. एक वर्ग की भुजा 6 सेमी है। इसके प्रत्येक भुजा पर 1-1 सेमी की दुरी पर आड़ी रेखाओ को खींचकर क्षेत्रफल ज्ञात कीजिए। अपने उत्तर की जाँच कीजिए



उत्तर देखें