

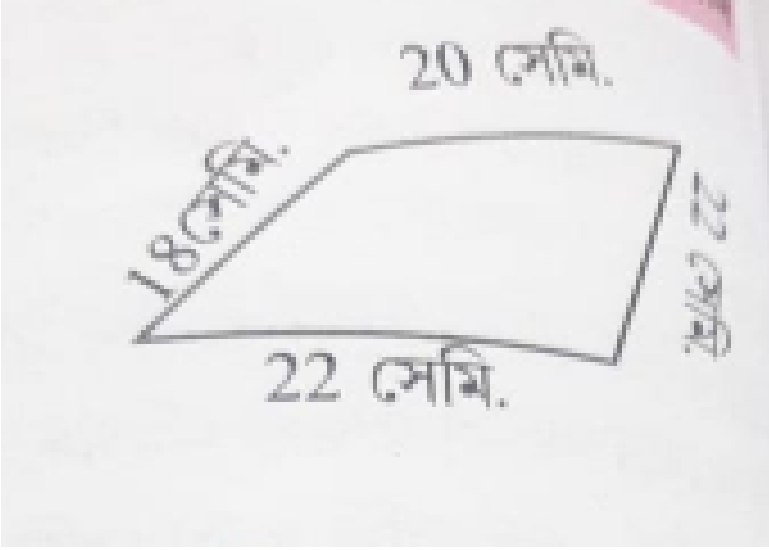


## MATHS

### ক্ষেত্রফল ও পরিসীমা নিয়ম

#### Exercise

1. দ্বিতীয় জ্যামিতিক আকারের পরিসীমা =  সেমি. +  
 সেমি. +  সেমি. +  সেমি. =  সেমি.



Watch Video Solution

2. তৃতীয় জ্যামিতিক আকারের পরিসীমা =  সেমি. +

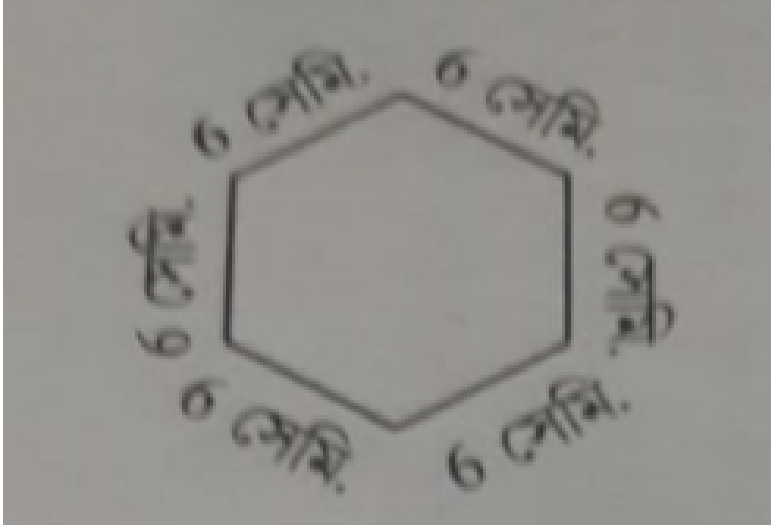
সেমি. +  সেমি. +  সেমি. +  সেমি. +

সেমি.

=

□

সেমি.

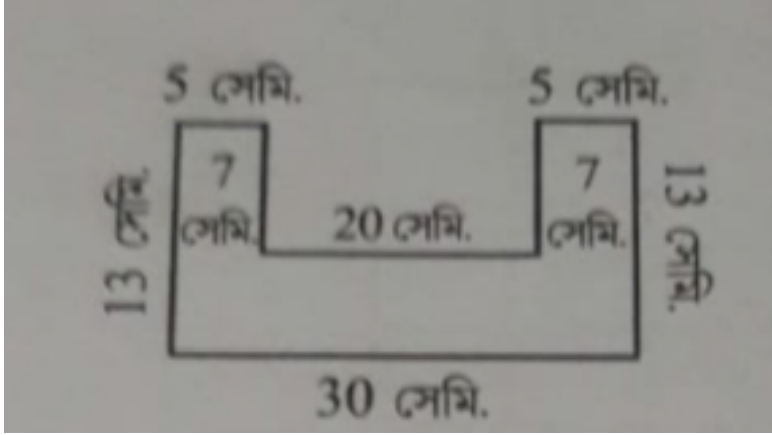


Watch Video Solution

3. চতুর্থ জ্যামিতিক আকারের পরিসীমা = □ সেমি. +

□ সেমি. + □ সেমি. + □ সেমি. + □ সেমি. + □

$$\text{সেমি.} + \square \text{ সেমি.} + \square \text{ সেমি.} = \square \text{ সেমি.}$$

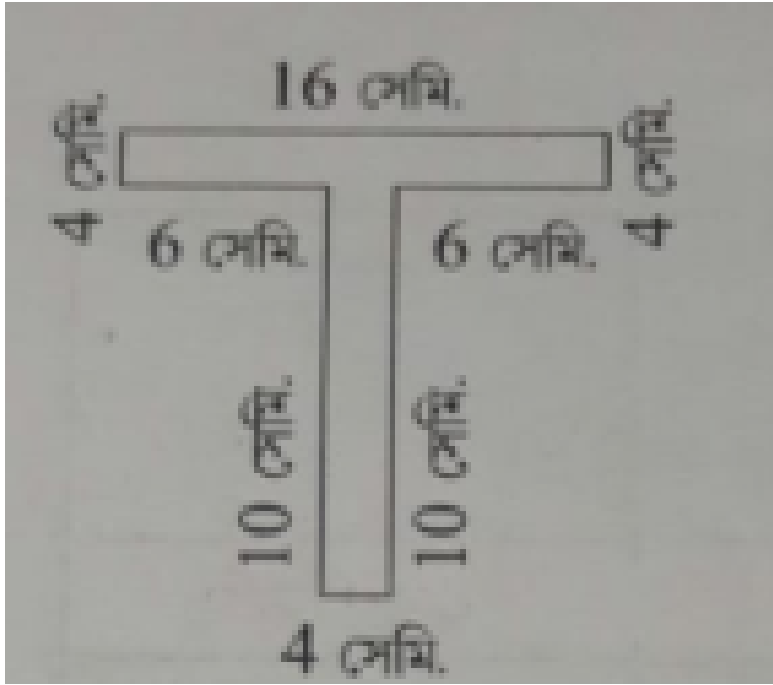


Watch Video Solution

4. পঞ্চম জ্যামিতিক আকারের পরিসীমা =  $\square$  সেমি. +

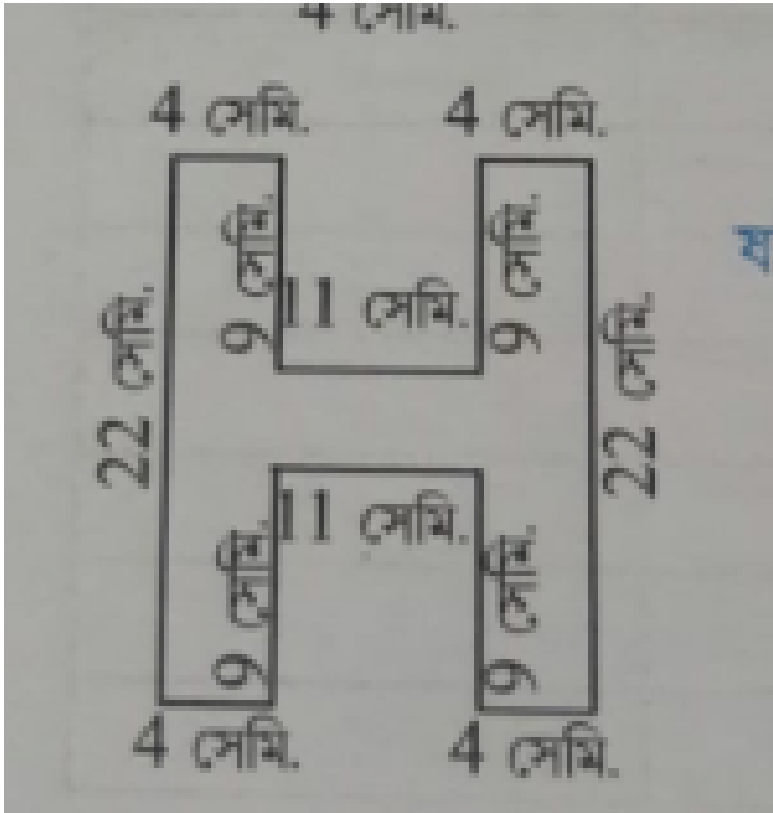
$\square$  সেমি. +  $\square$  সেমি. +  $\square$  সেমি. +  $\square$  সেমি. +  $\square$

সেমি. +  সেমি. +  সেমি. =  সেমি.



Watch Video Solution

5. ষষ্ঠ জ্যামিতিক আকারের পরিসীমা নিজে বের করো।



Watch Video Solution