



BIOLOGY

BOOKS - S CHAND

SOLVED QUESTION - 2015 (ANNUAL)

विज्ञान ग्रुप B जीव विज्ञान

1. एड्रिनेलिन हार्मोन किस अंग पर सीधे कार्य करता है?
(उत्तर एक शब्द या एक वाक्य में दीजिए)



वीडियो उत्तर देखें

2. किस विशिष्ट आनुवंशिक पदार्थ के अन्दर प्रोटीन संश्लेषण की सूचनाएँ कूटबद्ध रहती हैं? (उत्तर एक शब्द या एक वाक्य में दीजिए)

 वीडियो उत्तर देखें

3. वन प्रबन्धन में जनभागीदारी का एक उदाहरण दीजिए।
(उत्तर एक शब्द या एक वाक्य में दीजिए)

 वीडियो उत्तर देखें

4. संवेदी तथा प्रेरक तन्त्रिकाओं से आप क्या समझते हैं?

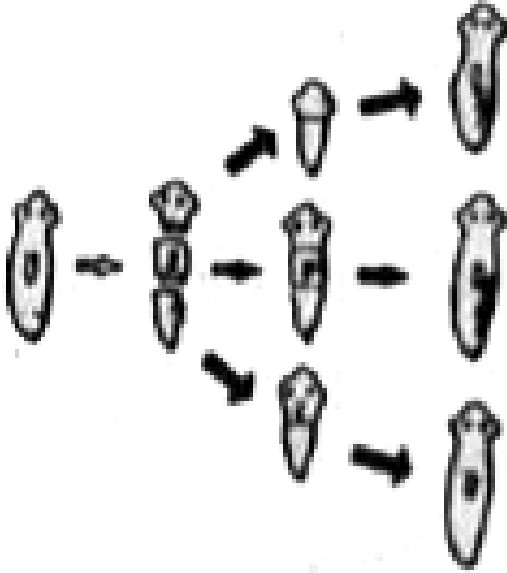
(उत्तर 30-40 शब्दों में दें।)



वीडियो उत्तर देखें

5. चित्र का निरीक्षण कीजिए और इस पर आधारित प्रश्नों के उत्तर दीजिए।

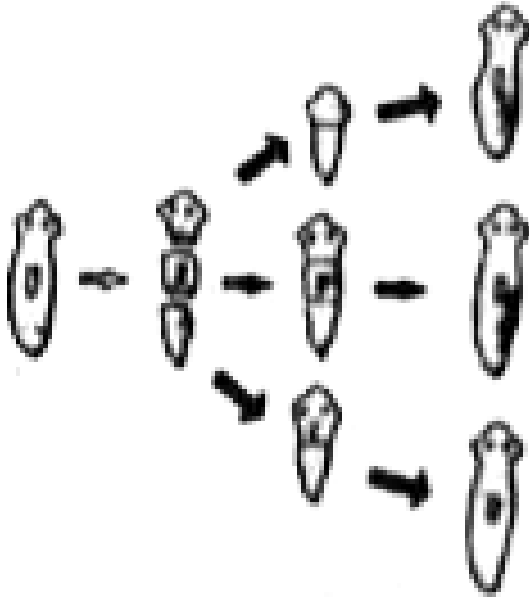
चित्र में किस जन्तु में जनन दर्शाया गया है?



उत्तर देखें

6. चित्र का निरीक्षण कीजिए और इस पर आधारित प्रश्नों के उत्तर दीजिए।

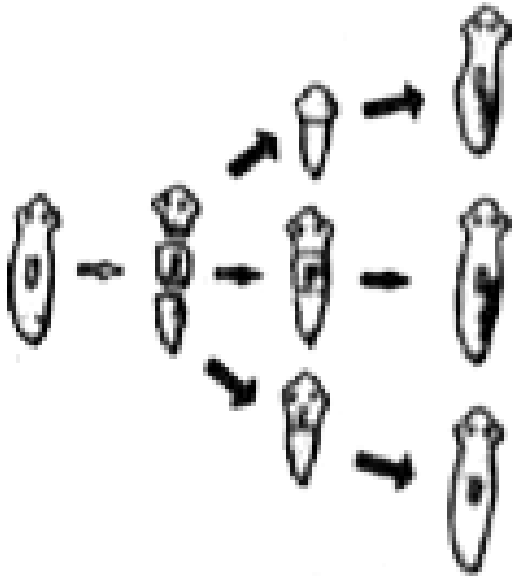
यह अलैंगिक जनन की कौन-सी विधि है?



उत्तर देखें

7. चित्र का निरीक्षण कीजिए और इस पर आधारित प्रश्नों के उत्तर दीजिए।

चित्र द्वारा दर्शायी गई विधि का वर्णन कीजिए।



 उत्तर देखें

8. किसी घास के मैदान की आहार शृंखला को प्रवाह-चार्ट द्वारा प्रदर्शित कीजिए।

 वीडियो उत्तर देखें

9. खाद की परिभाषा लिखिए। विभिन्न खाद कौन-कौन सी होती हैं और ये मिट्टी को किस प्रकार प्रभावित करती हैं?

 वीडियो उत्तर देखें

10. पादप हार्मोन और जंतु हार्मोन में दो अंतर लिखिए | (उत्तर 40 - 50 शब्दों में दें)

 वीडियो उत्तर देखें

11. रक्त क्या है?



वीडियो उत्तर देखें

12. अमीबा में पोषण का वर्णन कीजिए।(उत्तर 70 शब्दों में दीजिए)



वीडियो उत्तर देखें

13. आनुवंशिकता में मेंडल का क्या योगदान है?



वीडियो उत्तर देखें

14. एन्जाइम की क्रियाविधि के ताला-कुंजी सिद्धान्त की व्याख्या कीजिए।



वीडियो उत्तर देखें