



CHEMISTRY

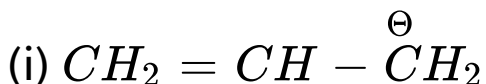
BOOKS - RESONANCE HINDI

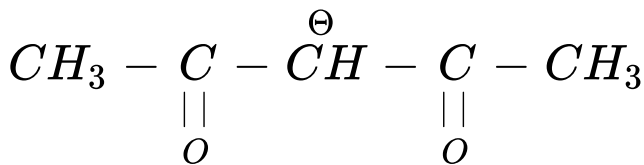
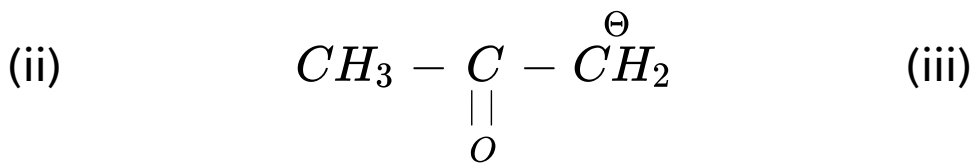
ORGANIC/INORGANIC CHEMISTRY DPP

NO. 37

बहुविकल्पीय प्रश्न

1. निम्न कार्बक्रणायनों के स्थायित्व का सही क्रम क्या है ?





A. $(i) > (ii) > (iii)$

B. $(ii) > (iii) > (i)$

C. $(iii) > (ii) > (i)$

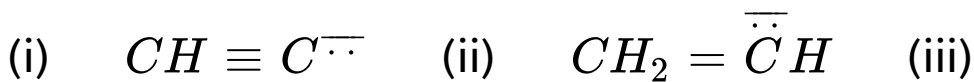
D. $(ii) > (i) > (iii)$

Answer: C



वीडियो उत्तर देखें

2. निम्न कार्बक्रणायनों के स्थायित्व का सही क्रम क्या है ?



A. (i) > (ii) > (iii)

B. (ii) > (iii) > (i)

C. (iii) > (ii) > (i)

D. (ii) > (i) > (iii)

Answer: A



वीडियो उत्तर देखें

3. निम्न कार्बधनायनों के स्थायित्व का सही क्रम है :



A. $I > II > III > IV$

B. $IV > II > III > I$

C. $IV > III > II > I$

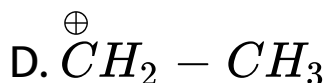
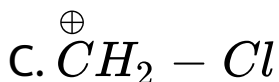
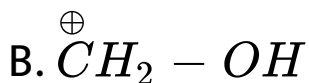
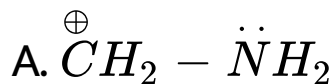
D. $IV > I > III > II$

Answer: B



उत्तर देखें

4. निम्न में से सबसे अधिक स्थायी मध्यवर्ती कार्बधनायन कौनसा है ?



Answer: A



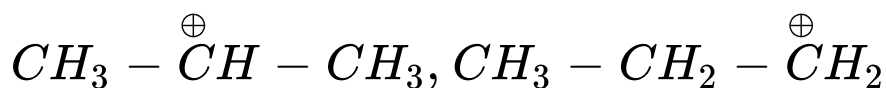
वीडियो उत्तर देखें

5. निम्न में से किसमें I^{st} , II^{nd} से अधिक स्थायी है ?

A. 

B. 

C.



D. उपरोक्त सभी

Answer: D



उत्तर देखें

6. निम्न में से कौनसा कार्बधनायन सर्वाधिक अस्थायी है ?

A. 

B. 

C. 

D. 

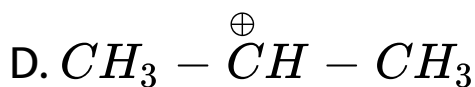
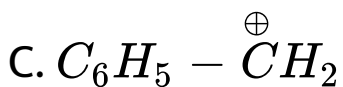
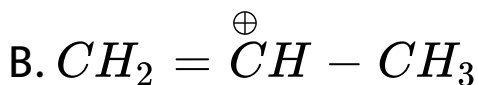
Answer: B



उत्तर देखें

7. निम्न में से कौनसा कार्बधनायन सर्वाधिक अस्थायी है ?

A. 



Answer: B



उत्तर देखें

8. निम्न में से कौनसा कार्बधनायन सर्वाधिक अस्थायी है ?

A. 

B. 

C. 

D. 

Answer: C



उत्तर देखें

9. बेंजीन में अधिकतम कितने परमाणु समान तल में होते हैं ?

A. 6

B. 10

C. 12

D. इनमें से कोई नहीं

Answer: C



वीडियो उत्तर देखें

10. निम्न में से किसमें अधिकतम SIR होगा ?

A. 

B. 

C. 

D. 

Answer: D



उत्तर देखें

11. निम्न में से किसमें कार्बधनायन का धनावेश $-OH$ के साथ संयुग्मन में नहीं होता है ?

A. 

B. 

C. 

D. इनमें से कोई नहीं

Answer: C



उत्तर देखें

12. निम्न में से कौनसा सर्वाधिक स्थायी धनायन है ?

A. 

B. 

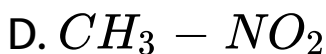
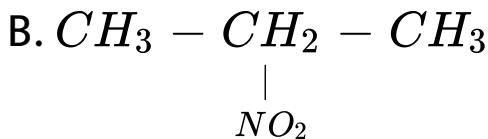
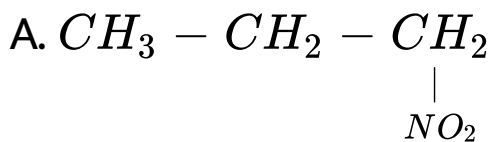
C. 

D. 

Answer: A

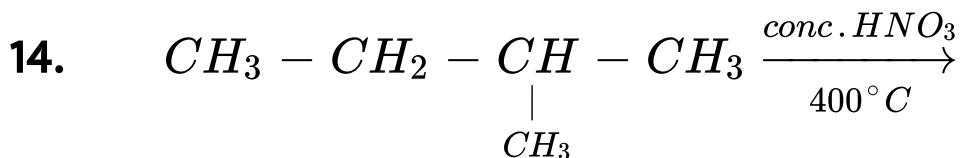
 उत्तर देखें

13. $CH_3 - CH_2 - CH_3 \xrightarrow[400^\circ C]{conc. HNO_3}$ मुख्य उत्पाद है

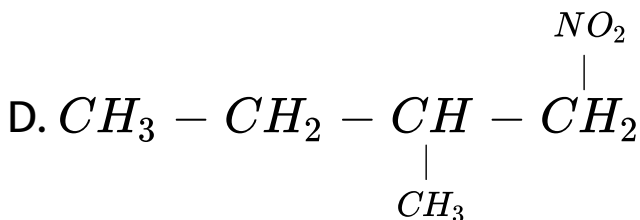
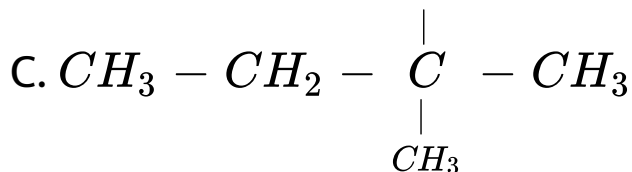
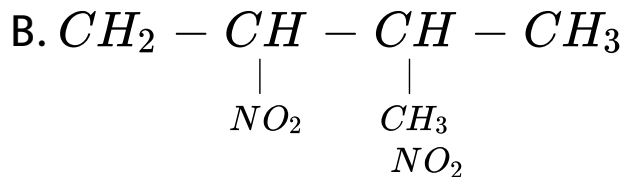
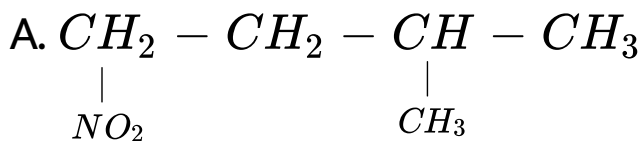


Answer: B

 वीडियो उत्तर देखें



मुख्य उत्पाद है :

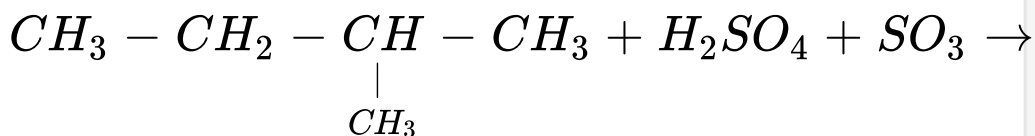


Answer: D

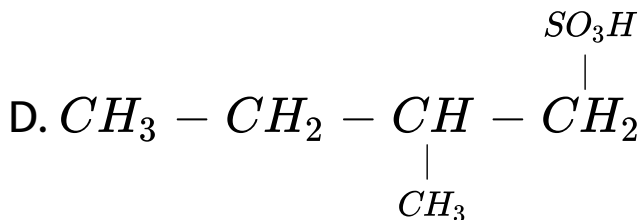
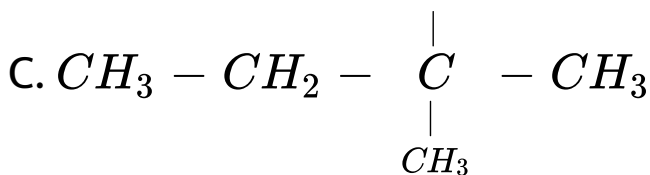
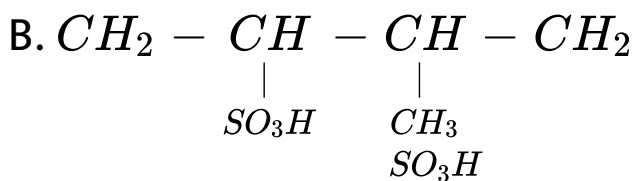
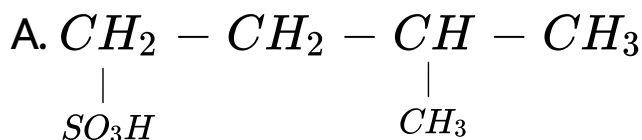


वीडियो उत्तर देखें

15.



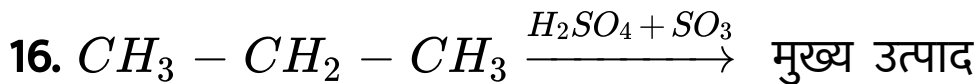
मुख्य उत्पाद है :



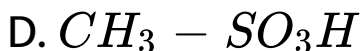
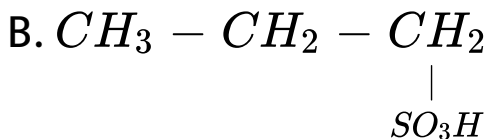
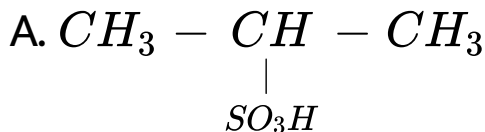
Answer: C



वीडियो उत्तर देखें



है :



Answer: A



वीडियो उत्तर देखें