



CHEMISTRY

BOOKS - RESONANCE HINDI

ORGANIC/INORGANIC CHEMISTRY

DPP NO. 49

बहुविकल्पीय प्रश्न

1. निम्न में से कौन चलावयवता नहीं दर्शाता है

A. 

B. 

C. 

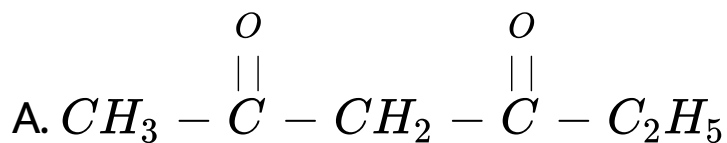
D. 

Answer: B



उत्तर देखें

2. निम्न यौगिकों में से कौन इनोल रूप प्रदर्शित नहीं करता है



B. 

C. 

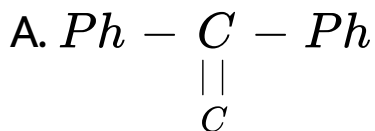
D. 

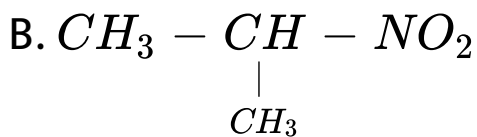
Answer: B::C::D



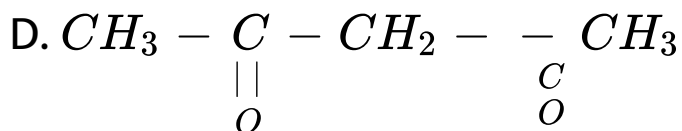
उत्तर देखें

3. निम्नलिखित में से कोनसा योगिक चलावयवता प्रदर्शित नहीं करते है।





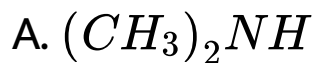
C. 

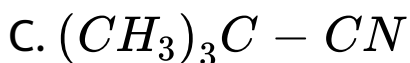
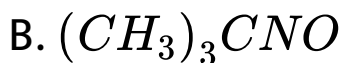


Answer: A

 उत्तर देखें

4. चलावयवता प्रदर्शित करता है



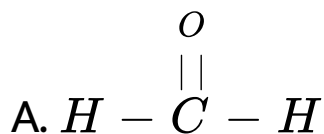


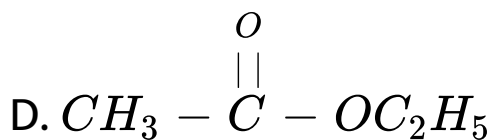
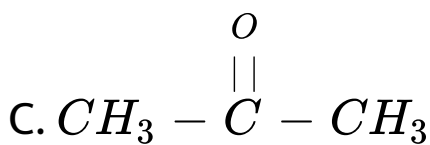
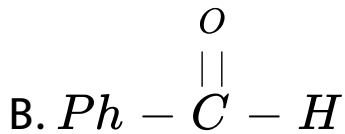
Answer: D

 वीडियो उत्तर देखें

5. निम्न में कौनसा यौगिक OD^\oplus / D_2O विलयन में D-

विनिमय(D-exchange) करता है?





Answer: C

 वीडियो उत्तर देखें

6. यौगिक जिसमें CH_3 -समूह अम्लीय सामर्थ्य को बढ़ाता है तथा क्षारीय सामर्थ्य को घटाता है क्रमशः है (1)

$\text{CH}_3 - \text{COOH}$ (2)  (4)  (6) $\text{CH}_3 - \text{NH}_2$

A. 3 तथा 5

B. 1 तथा 6

C. 3 तथा 4

D. 2 तथा 5

Answer: C



उत्तर देखें

7. अभिक्रिया अनुक्रम का प्रेक्षण कीजिये।



स्थायित्व का सही क्रम है।

A. $III > II$

B. $IV > II$

C. $III > IV$

D. 

Answer: C



उत्तर देखें